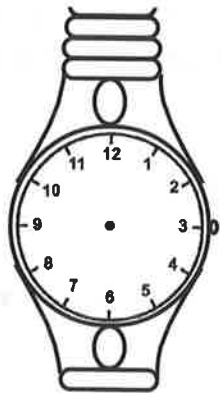





СМЕКАЙ, РЕШАЙ, УЧИСЬ

Задание № 4. Нарисуй стрелки на часах.

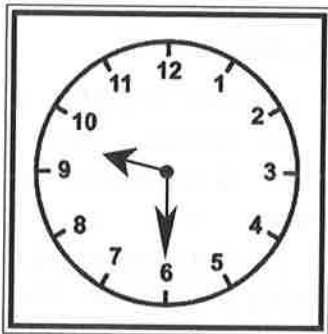
А) Настенные часы отстают на 10 минут, а наручные – спешат на 5 минут. Как расположены стрелки наручных часов? Нарисуй их.



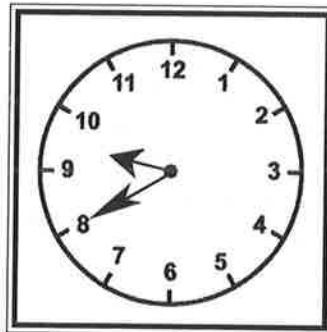
«Всякая всячина»

На вокзале Сен-Лазар (Франция, Париж) есть скульптурная композиция «Время для всех» – несколько десятков циферблатов нагромождены друг на друга. В шутку их называют «памятником всем опоздавшим».

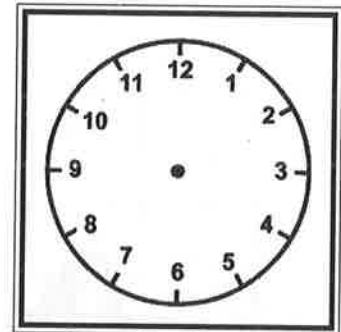
Б) Известно, что первые часы отстают не больше, чем на 5 минут, а вторые – спешат больше, чем на 6 минут. Нарисуй, сколько времени на самом деле.



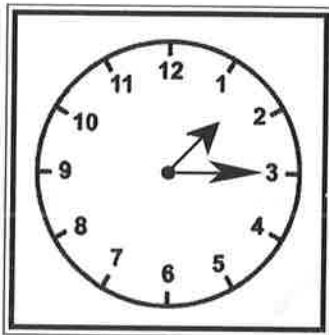
1



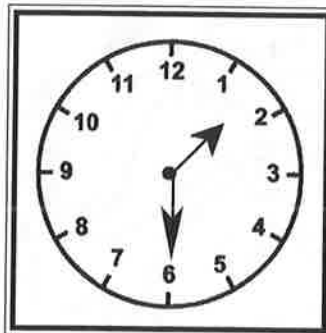
2



В) Известно, что первые часы отстают не меньше, чем на 10 минут, а вторые – спешат не больше, чем на 4 минут. Нарисуй, сколько времени на самом деле.



1



2

